

Тренировочный вариант №012
контрольных измерительных материалов ОГЭ 2024 года
по МАТЕМАТИКЕ

Инструкция по выполнению работы



Экзаменационная работа состоит из двух частей, включающих в себя 25 заданий. Часть 1 содержит 19 заданий, часть 2 содержит 6 заданий с развёрнутым ответом.

На выполнение экзаменационной работы по математике отводится 3 часа 55 минут (235 минут).

Ответы к заданиям 7 и 13 запишите в бланк ответов № 1 в виде одной цифры, которая соответствует номеру правильного ответа.

Для остальных заданий части 1 ответом является число или последовательность цифр. Ответ запишите в поле ответа в тексте работы, а затем перенесите в бланк ответов № 1. Если получилась обыкновенная дробь, ответ запишите в виде десятичной.

Решения заданий части 2 и ответы к ним запишите на бланке ответов № 2. Задания можно выполнять в любом порядке. Текст задания переписывать не надо, необходимо только указать его номер.

Все бланки заполняются яркими чёрными чернилами. Допускается использование гелевой или капиллярной ручки. Сначала выполняйте задания части 1. Начать советуем с тех заданий, которые вызывают у Вас меньше затруднений, затем переходите к другим заданиям. Для экономии времени пропускайте задание, которое не удаётся выполнить сразу, и переходите к следующему. Если у Вас останется время, Вы сможете вернуться к пропущенным заданиям.

При выполнении части 1 все необходимые вычисления, преобразования выполняйте в черновике. Записи в черновике, а также в тексте контрольных измерительных материалов не учитываются при оценивании работы.

Если задание содержит рисунок, то на нём непосредственно в тексте работы можно выполнять необходимые Вам построения. Рекомендуем внимательно читать условие и проводить проверку полученного ответа.

При выполнении работы Вы можете воспользоваться справочными материалами, выданными вместе с вариантом КИМ, линейкой и непрограммируемым калькулятором.

Баллы, полученные Вами за выполненные задания, суммируются. Постарайтесь выполнить как можно больше заданий и набрать наибольшее количество баллов.

После завершения работы проверьте, чтобы ответ на каждое задание в бланках ответов № 1 и № 2 был записан под правильным номером.

Справочные материалы

Таблица квадратов двузначных чисел

		Единицы									
		0	1	2	3	4	5	6	7	8	9
Десятки	1	100	121	144	169	196	225	256	289	324	361
	2	400	441	484	529	576	625	676	729	784	841
	3	900	961	1024	1089	1156	1225	1296	1369	1444	1521
	4	1600	1681	1764	1849	1936	2025	2116	2209	2304	2401
	5	2500	2601	2704	2809	2916	3025	3136	3249	3364	3481
	6	3600	3721	3844	3969	4096	4225	4356	4489	4624	4761
	7	4900	5041	5184	5329	5476	5625	5776	5929	6084	6241
	8	6400	6561	6724	6889	7056	7225	7396	7569	7744	7921
	9	8100	8281	8464	8649	8836	9025	9216	9409	9604	9801

АЛГЕБРА

- Формула корней квадратного уравнения: $x = \frac{-b \pm \sqrt{D}}{2a}$, где $D = b^2 - 4ac$.

- Если квадратный трёхчлен $ax^2 + bx + c$ имеет два корня x_1 и x_2 , то

$$ax^2 + bx + c = a(x - x_1)(x - x_2);$$

- если квадратный трёхчлен $ax^2 + bx + c$ имеет единственный корень x_0 , то

$$ax^2 + bx + c = a(x - x_0)^2.$$

- Абсцисса вершины параболы, заданной уравнением $y = ax^2 + bx + c$:

$$x_0 = -\frac{b}{2a}.$$

- Формула n -го члена арифметической прогрессии (a_n) , первый член которой равен a_1 и разность равна d : $a_n = a_1 + d(n - 1)$.

- Формула суммы первых n членов арифметической прогрессии: $S_n = \frac{(a_1 + a_n)n}{2}$.

- Формула n -го члена геометрической прогрессии b_n , первый член которой равен b_1 , а знаменатель равен q : $b_n = b_1 \cdot q^{n-1}$

- Формула суммы первых n членов геометрической прогрессии:

$$S_n = \frac{(q^n - 1)b_1}{q - 1}.$$

- Формулы сокращённого умножения: $(a + b)^2 = a^2 + 2ab + b^2$;

$$(a - b)^2 = a^2 - 2ab + b^2;$$

$$a^2 - b^2 = (a - b)(a + b).$$

- Свойства арифметического квадратного корня: $\sqrt{ab} = \sqrt{a} \cdot \sqrt{b}$ при $a \geq 0, b \geq 0$;

$$\sqrt{\frac{a}{b}} = \frac{\sqrt{a}}{\sqrt{b}} \text{ при } a \geq 0, b > 0.$$

- Свойства степени при $a > 0, b > 0$

$$a^{-n} = \frac{1}{a^n}; \quad (a^n)^m = a^{nm};$$

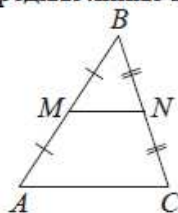
$$a^n \cdot a^m = a^{n+m}; \quad (ab)^n = a^n \cdot b^n;$$

$$\frac{a^n}{a^m} = a^{n-m}; \quad \left(\frac{a}{b}\right)^n = \frac{a^n}{b^n}.$$

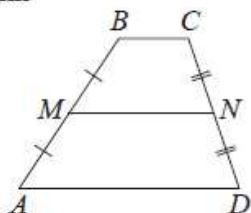
ГЕОМЕТРИЯ

Сумма углов выпуклого n -угольника равна $180^\circ(n-2)$.

Средняя линия треугольника и трапеции

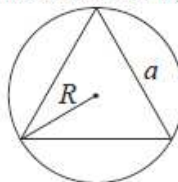


MN — ср. лин.
 $MN \parallel AC$
 $MN = \frac{AC}{2}$

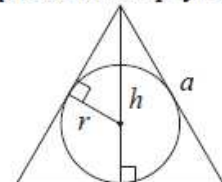


$BC \parallel AD$
 MN — ср. лин.
 $MN \parallel AD$
 $MN = \frac{BC + AD}{2}$

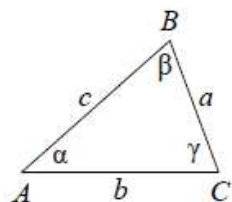
Описанная и вписанная окружности правильного треугольника



$R = \frac{a\sqrt{3}}{3}$
 $S = \frac{a^2\sqrt{3}}{4}$



$r = \frac{a\sqrt{3}}{6}$
 $h = \frac{a\sqrt{3}}{2}$



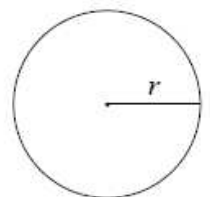
Для треугольника ABC со сторонами $AB=c$, $AC=b$, $BC=a$:

$$\frac{a}{\sin A} = \frac{b}{\sin B} = \frac{c}{\sin C} = 2R,$$

где R — радиус описанной окружности.

Для треугольника ABC со сторонами $AB=c$, $AC=b$, $BC=a$:

$$c^2 = a^2 + b^2 - 2ab \cos C.$$

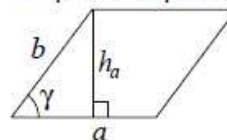


Длина окружности $C = 2\pi r$

Площадь круга $S = \pi r^2$

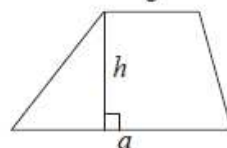
Площади фигур

Параллелограмм



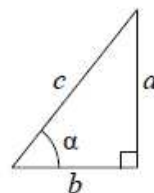
$S = ah_a$
 $S = ab \sin \gamma$

Трапеция



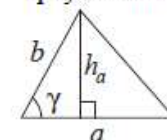
$S = \frac{a+b}{2} \cdot h$

Прямоугольный треугольник



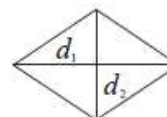
$\sin \alpha = \frac{a}{c}$
 $\cos \alpha = \frac{b}{c}$
 $\operatorname{tg} \alpha = \frac{a}{b}$

Треугольник



$S = \frac{1}{2} ah_a$
 $S = \frac{1}{2} ab \sin \gamma$

Ромб



d_1, d_2 — диагонали
 $S = \frac{1}{2} d_1 d_2$

Теорема Пифагора: $a^2 + b^2 = c^2$

Основное тригонометрическое тождество: $\sin^2 \alpha + \cos^2 \alpha = 1$

Некоторые значения тригонометрических функций

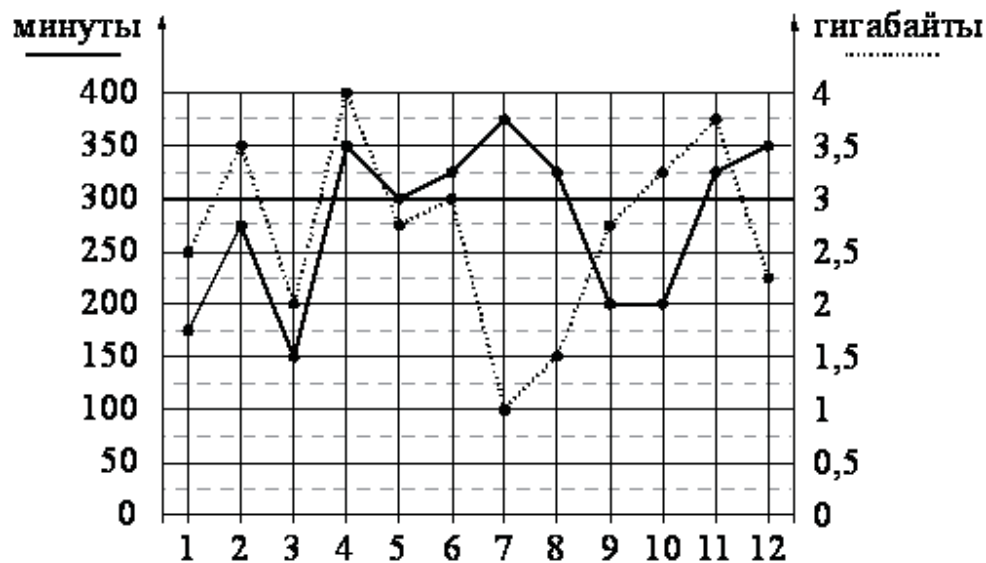
α	градусы	0°	30°	45°	60°	90°	180°	270°	360°
$\sin \alpha$		0	$\frac{1}{2}$	$\frac{\sqrt{2}}{2}$	$\frac{\sqrt{3}}{2}$	1	0	-1	0
$\cos \alpha$		1	$\frac{\sqrt{3}}{2}$	$\frac{\sqrt{2}}{2}$	$\frac{1}{2}$	0	-1	0	1
$\operatorname{tg} \alpha$		0	$\frac{\sqrt{3}}{3}$	1	$\sqrt{3}$	—	0	—	0

Часть 1

Ответами к заданиям 1–19 являются число или последовательность цифр, которые следует записать в БЛАНК ОТВЕТОВ № 1 справа от номера соответствующего задания, начиная с первой клеточки. Если ответом является последовательность цифр, то запишите её без пробелов и других дополнительных символов. Каждый символ пишете в отдельной клеточке в соответствии с приведёнными в бланке образцами.

Прочитайте внимательно текст и выполните задания 1–5.

На рисунке точками показано количество минут исходящих вызовов и трафик мобильного интернета в гигабайтах, израсходованных абонентом в процессе пользования смартфоном, за каждый месяц 2019 года. Для удобства точки, соответствующие минутам и гигабайтам, соединены сплошными и пунктирными линиями соответственно.



В течение года абонент пользовался тарифом «Стандартный», абонентская плата по которому составляла 350 рублей в месяц. При условии нахождения абонента на территории РФ в абонентскую плату тарифа «Стандартный» входит:

- пакет минут, включающий 300 минут исходящих вызовов на номера, зарегистрированные на территории РФ;
- пакет интернета, включающий 3 гигабайта мобильного интернета;

- пакет SMS, включающий 120 SMS в месяц;
- безлимитные бесплатные входящие вызовы.

Исходящие вызовы	3 руб./мин.
Мобильный интернет (пакет)	90 руб. за 0,5 ГБ
SMS	2 руб./шт.

Абонент не пользовался услугами связи в роуминге. За весь год абонент отправил 110 SMS.

1. Впишите правильный ответ.

Определите, какие месяцы соответствуют указанному в таблице трафику мобильного интернета.

Заполните таблицу, в бланк ответов перенесите числа, соответствующие номерам месяцев, без пробелов, запятых и других дополнительных символов (например, для месяцев май, январь, ноябрь, август в ответ нужно записать число 51118).

Мобильный интернет	1 ГБ	3 ГБ	3,25 ГБ	1,5 ГБ
Номер месяца				

Ответ: _____.

2. Сколько рублей потратил абонент на услуги связи в феврале?

Ответ: _____.

3. Какое наименьшее количество минут исходящих вызовов за месяц было в 2019 году?

Ответ: _____.

4. На сколько процентов увеличился трафик мобильного интернета в феврале по сравнению с январём 2019 года?

Ответ: _____.

5. В конце 2019 года оператор связи предложил абоненту перейти на новый тариф, условия которого приведены в таблице.

Стоимость перехода на тариф	0 руб.
Абонентская плата в месяц	440 руб.
В абонентскую плату включены пакеты:	
пакет исходящих вызовов	400 минут
пакет мобильного интернета	4 ГБ
пакет SMS	120 SMS
После расходования пакетов:	
входящие вызовы	0 руб./мин.
исходящие вызовы*	4 руб./мин.
мобильный интернет (пакет)	180 руб. за 0,5 ГБ
SMS	2 руб./шт.

*исходящие вызовы на номера, зарегистрированные на территории РФ

Абонент решает, перейти ли ему на новый тариф, посчитав, сколько бы он потратил на услуги связи за 2019 г., если бы пользовался им. Если получится меньше, чем он потратил фактически за 2019 г., то абонент примет решение сменить тариф.

Перейдёт ли абонент на новый тариф? В ответе запишите ежемесячную абонентскую плату по тарифу, который выберет абонент на 2020 год.

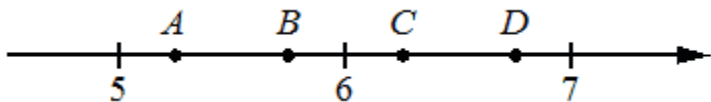
Ответ: _____.

6. Найдите значение выражения. $2\frac{7}{18} - 1\frac{31}{38}$

Представьте полученный результат в виде несократимой обыкновенной дроби. В ответ запишите числитель этой дроби.

Ответ: _____.

7. На координатной прямой отмечены точки A, B, C, D. Одна из них соответствует числу $\sqrt{28}$. Какая это точка?



- 1) точка A
- 2) точка B
- 3) точка C
- 4) точка D

Ответ: _____.

8. Найдите значение выражения $\sqrt{5^6}$

Ответ: _____.

9. Решите уравнение $x^2 - 6x + 5 = 0$. Если уравнение имеет более одного корня, в ответ запишите меньший из корней.

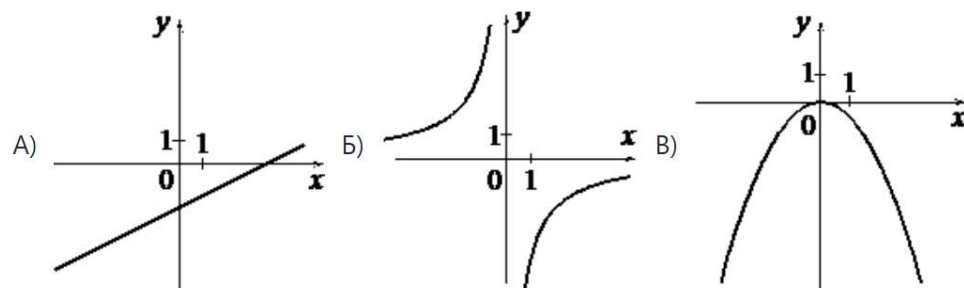
Ответ: _____.

10. У бабушки 10 чашек: 7 с красными цветами, остальные с синими. Бабушка наливает чай в случайно выбранную чашку. Найдите вероятность того, что это будет чашка с синими цветами.

Ответ: _____.

11. Установите соответствие между функциями и их графиками.

ГРАФИКИ



ФУНКЦИИ

А) $y = -\frac{6}{x}$

Б) $y = -\frac{1}{2}x^2$

В) $y = \frac{1}{2}x - 2$

Ответ: В таблице под каждой буквой укажите соответствующий номер.

А	Б	В

Ответ: _____.

12. В фирме «Родник» стоимость (в рублях) колодца из железобетонных колец рассчитывается по формуле $C=6000+4100n$, где n — число колец, установленных в колодце. Пользуясь этой формулой, рассчитайте стоимость колодца из 20 колец. Ответ дайте в рублях.

Ответ: _____.

13. Укажите решение неравенства $6x-x^2 \geq 0$

1) $[0; +\infty)$

2) $(-\infty; 0] \cup [6; +\infty)$

3) $[0; 6]$

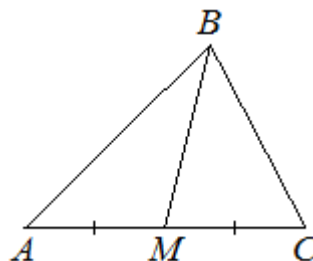
4) $[6; +\infty)$

Ответ: _____.

14. У Тани есть теннисный мячик. Она со всей силы бросила его об асфальт. После первого отскока мячик подлетел на высоту 360 см, а после каждого следующего отскока от асфальта подлетал на высоту в три раза меньше предыдущей. После какого по счёту отскока высота, на которую подлетит мячик, станет меньше 15 см?

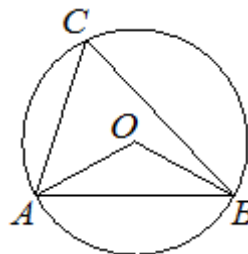
Ответ: _____.

15. В треугольнике ABC известно, что $AC=14$, BM — медиана, $BM=10$. Найдите AM .



Ответ: _____.

16. Треугольник ABC вписан в окружность с центром в точке O. Точки O и C лежат в одной полуплоскости относительно прямой AB. Найдите угол ACB, если угол AOB равен 113° . Ответ дайте в градусах.



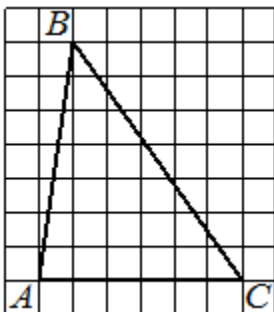
Ответ: _____.

17. Один из углов параллелограмма равен 102° . Найдите меньший угол этого параллелограмма. Ответ дайте в градусах.



Ответ: _____.

18. На клетчатой бумаге с размером клетки 1×1 изображён треугольник ABC. Найдите длину его средней линии, параллельной стороне AC.



Ответ: _____.

19. Какие из следующих утверждений верны?

- 1) Площадь треугольника меньше произведения двух его сторон.
- 2) Средняя линия трапеции равна сумме её оснований.
- 3) Если два угла одного треугольника равны двум углам другого треугольника, то такие треугольники подобны.

В ответ запишите номера выбранных утверждений без пробелов, запятых и других дополнительных символов.

Ответ: _____.



Не забудьте перенести все ответы в бланк ответов № 1 в соответствии с инструкцией по выполнению работы. Проверьте, чтобы каждый ответ был записан в строке с номером соответствующего задания.

Часть 2

При выполнении заданий 20–25 используйте БЛАНК ОТВЕТОВ № 2. Сначала укажите номер задания, а затем запишите его решение и ответ. Пишите чётко и разборчиво.

20. Решите уравнение $x^3 + 5x^2 - x - 5 = 0$

21. Велосипедист выехал с постоянной скоростью из города А в город В, расстояние между которыми равно 224 км. На следующий день он отправился обратно в А, увеличив скорость на 2 км/ч. По пути он сделал остановку на 2 часа, в результате чего затратил на обратный путь столько же времени, сколько на путь из А в В. Найдите скорость велосипедиста на пути из А в В.

22. Постройте график функции.

$$y = \frac{(0.5x^2 + 2x) * |x|}{x + 4}$$

Определите, при каких значениях m прямая $y = m$ имеет с графиком ровно две общие точки.

23. Высота АН ромба ABCD делит сторону CD на отрезки DH=21 и CH=8. Найдите высоту ромба.

24. Основания BC и AD трапеции ABCD равны соответственно 5 и 20, BD=10. Докажите, что треугольники CBD и BDA подобны.

25. На стороне BC остроугольного треугольника ABC как на диаметре построена полуокружность, пересекающая высоту AD в точке M, AD=49, MD=42, H — точка пересечения высот треугольника ABC. Найдите AH.



Проверьте, чтобы каждый ответ был записан рядом с номером соответствующего задания.

