

Тренировочный вариант №001
контрольных измерительных материалов ОГЭ 2024 года
по МАТЕМАТИКЕ

Инструкция по выполнению работы

Экзаменационная работа состоит из двух частей, включающих в себя 25 заданий. Часть 1 содержит 19 заданий, часть 2 содержит 6 заданий с развёрнутым ответом.

На выполнение экзаменационной работы по математике отводится 3 часа 55 минут (235 минут). Ответы к заданиям 7 и 13 запишите в бланк ответов № 1 в виде одной цифры, которая соответствует номеру правильного ответа.

Для остальных заданий части 1 ответом является число или последовательность цифр. Ответ запишите в поле ответа в тексте работы, а затем перенесите в бланк ответов № 1. Если получилась обыкновенная дробь, ответ запишите в виде десятичной.

Решения заданий части 2 и ответы к ним запишите на бланке ответов № 2. Задания можно выполнять в любом порядке. Текст задания переписывать не надо, необходимо только указать его номер.

Все бланки заполняются яркими чёрными чернилами. Допускается использование гелевой или капиллярной ручки. Сначала выполняйте задания части 1. Начать советуем с тех заданий, которые вызывают у Вас меньше затруднений, затем переходите к другим заданиям. Для экономии времени пропускайте задание, которое не удаётся выполнить сразу, и переходите к следующему. Если у Вас останется время, Вы сможете вернуться к пропущенным заданиям.

При выполнении части 1 все необходимые вычисления, преобразования выполняйте в черновике. Записи в черновике, а также в тексте контрольных измерительных материалов не учитываются при оценивании работы.

Если задание содержит рисунок, то на нём непосредственно в тексте работы можно выполнять необходимые Вам построения. Рекомендуем внимательно читать условие и проводить проверку полученного ответа.

При выполнении работы Вы можете воспользоваться справочными материалами, выданными вместе с вариантом КИМ, линейкой и непрограммируемым калькулятором.

Баллы, полученные Вами за выполненные задания, суммируются. Постарайтесь выполнить как можно больше заданий и набрать наибольшее количество баллов.

После завершения работы проверьте, чтобы ответ на каждое задание в бланках ответов № 1 и № 2 был записан под правильным номером.

Справочные материалы

Таблица квадратов двузначных чисел

		Единицы									
		0	1	2	3	4	5	6	7	8	9
Десятки	1	100	121	144	169	196	225	256	289	324	361
	2	400	441	484	529	576	625	676	729	784	841
	3	900	961	1024	1089	1156	1225	1296	1369	1444	1521
	4	1600	1681	1764	1849	1936	2025	2116	2209	2304	2401
	5	2500	2601	2704	2809	2916	3025	3136	3249	3364	3481
	6	3600	3721	3844	3969	4096	4225	4356	4489	4624	4761
	7	4900	5041	5184	5329	5476	5625	5776	5929	6084	6241
	8	6400	6561	6724	6889	7056	7225	7396	7569	7744	7921
	9	8100	8281	8464	8649	8836	9025	9216	9409	9604	9801

АЛГЕБРА

- Формула корней квадратного уравнения: $x = \frac{-b \pm \sqrt{D}}{2a}$, где $D = b^2 - 4ac$.
- Если квадратный трёхчлен $ax^2 + bx + c$ имеет два корня x_1 и x_2 , то

$$ax^2 + bx + c = a(x - x_1)(x - x_2);$$
 если квадратный трёхчлен $ax^2 + bx + c$ имеет единственный корень x_0 , то

$$ax^2 + bx + c = a(x - x_0)^2.$$
- Абсцисса вершины параболы, заданной уравнением $y = ax^2 + bx + c$:

$$x_0 = -\frac{b}{2a}.$$
- Формула n -го члена арифметической прогрессии (a_n), первый член которой равен a_1 и разность равна d : $a_n = a_1 + d(n - 1)$.
- Формула суммы первых n членов арифметической прогрессии: $S_n = \frac{(a_1 + a_n)n}{2}$.
- Формула n -го члена геометрической прогрессии b_n , первый член которой равен b_1 , а знаменатель равен q : $b_n = b_1 \cdot q^{n-1}$.
- Формула суммы первых n членов геометрической прогрессии:

$$S_n = \frac{(q^n - 1)b_1}{q - 1}.$$
- Формулы сокращённого умножения:

$$(a + b)^2 = a^2 + 2ab + b^2;$$

$$(a - b)^2 = a^2 - 2ab + b^2;$$

$$a^2 - b^2 = (a - b)(a + b).$$
- Свойства арифметического квадратного корня: $\sqrt{ab} = \sqrt{a} \cdot \sqrt{b}$ при $a \geq 0, b \geq 0$;
 $\sqrt{\frac{a}{b}} = \frac{\sqrt{a}}{\sqrt{b}}$ при $a \geq 0, b > 0$.
- Свойства степени при $a > 0, b > 0$

$$a^{-n} = \frac{1}{a^n}; \quad (a^n)^m = a^{nm};$$

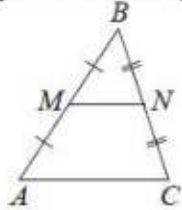
$$a^n \cdot a^m = a^{n+m}; \quad (ab)^n = a^n \cdot b^n;$$

$$\frac{a^n}{a^m} = a^{n-m}; \quad \left(\frac{a}{b}\right)^n = \frac{a^n}{b^n}.$$

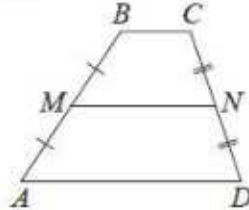
ГЕОМЕТРИЯ

Сумма углов выпуклого n -угольника равна $180^\circ(n-2)$.

Средняя линия треугольника и трапеции

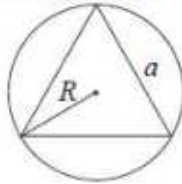


MN — ср. лин.
 $MN \parallel AC$
 $MN = \frac{AC}{2}$

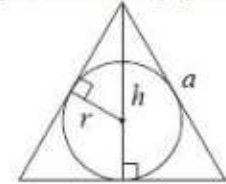


$BC \parallel AD$
 MN — ср. лин.
 $MN \parallel AD$
 $MN = \frac{BC + AD}{2}$

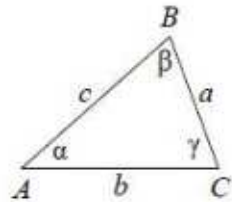
Описанная и вписанная окружности правильного треугольника



$R = \frac{a\sqrt{3}}{3}$
 $S = \frac{a^2\sqrt{3}}{4}$



$r = \frac{a\sqrt{3}}{6}$
 $h = \frac{a\sqrt{3}}{2}$



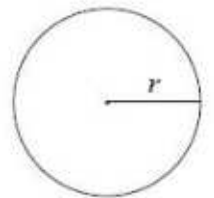
Для треугольника ABC со сторонами $AB=c$,
 $AC=b$, $BC=a$:

$$\frac{a}{\sin A} = \frac{b}{\sin B} = \frac{c}{\sin C} = 2R,$$

где R — радиус описанной окружности.

Для треугольника ABC со сторонами $AB=c$,
 $AC=b$, $BC=a$:

$$c^2 = a^2 + b^2 - 2ab \cos C.$$

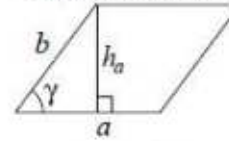


Длина окружности $C = 2\pi r$

Площадь круга $S = \pi r^2$

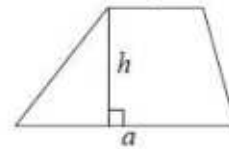
Площади фигур

Параллелограмм



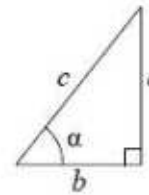
$S = ah_a$
 $S = ab \sin \gamma$

Трапеция



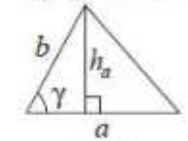
$S = \frac{a+b}{2} \cdot h$

Прямоугольный треугольник



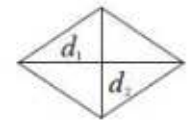
$\sin \alpha = \frac{a}{c}$
 $\cos \alpha = \frac{b}{c}$
 $\operatorname{tg} \alpha = \frac{a}{b}$

Треугольник



$S = \frac{1}{2} ah_a$
 $S = \frac{1}{2} ab \sin \gamma$

Ромб



d_1, d_2 — диагонали
 $S = \frac{1}{2} d_1 d_2$

Теорема Пифагора: $a^2 + b^2 = c^2$

Основное тригонометрическое тождество: $\sin^2 \alpha + \cos^2 \alpha = 1$

Некоторые значения тригонометрических функций

α	градусы	0°	30°	45°	60°	90°	180°	270°	360°
$\sin \alpha$		0	$\frac{1}{2}$	$\frac{\sqrt{2}}{2}$	$\frac{\sqrt{3}}{2}$	1	0	-1	0
$\cos \alpha$		1	$\frac{\sqrt{3}}{2}$	$\frac{\sqrt{2}}{2}$	$\frac{1}{2}$	0	-1	0	1
$\operatorname{tg} \alpha$		0	$\frac{\sqrt{3}}{3}$	1	$\sqrt{3}$	—	0	—	0

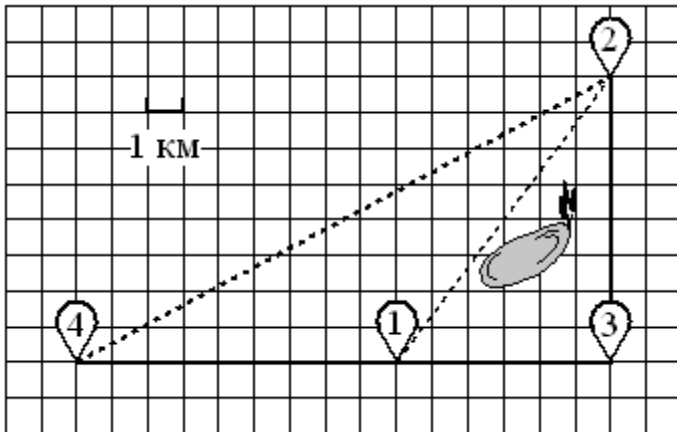
Часть 1

Ответами к заданиям 1–19 являются число или последовательность цифр, которые следует записать в БЛАНК ОТВЕТОВ № 1 справа от номера соответствующего задания, начиная с первой клеточки. Если ответом является последовательность цифр, то запишите её без пробелов и других дополнительных символов. Каждый символ пишете в отдельной клеточке в соответствии с приведёнными в бланке образцами.

Прочитайте внимательно текст и выполните задания 1–5.

Никита и папа летом живут в деревне Лягушкино. В субботу они собираются съездить на велосипедах в село Вятское в спортивный магазин. Из деревни Лягушкино в село Вятское можно проехать по прямой лесной дорожке. Есть более длинный путь: по прямолинейному шоссе через деревню Куровка до деревни Марусино, где нужно повернуть под прямым углом налево на другое шоссе, ведущее в село Вятское. Есть и третий маршрут: в деревне Куровка можно свернуть на прямую тропинку в село Вятское, которая идёт мимо пруда.

Лесная дорожка и тропинка образуют с шоссе прямоугольные треугольники.



По шоссе Никита с папой едут со скоростью 25 км/ч, а по лесной дорожке и тропинке — со скоростью 15 км/ч. На плане изображено взаимное расположение населённых пунктов, длина стороны каждой клетки равна 1 км.

1 Пользуясь описанием, определите, какими цифрами на плане обозначены населённые пункты.

Заполните таблицу, в бланк ответов перенесите последовательность трёх цифр без пробелов, запятых и других дополнительных символов.

Ответ:

Насел. пункты	д. Лягушкино	с. Вятское	д. Куровка
Цифры			

2 Сколько километров проедут Никита с папой от деревни Лягушкино до села Вятское, если они поедут по шоссе через деревню Марусино?

Ответ: _____.

3 Найдите расстояние от деревни Лягушкино до села Вятское по прямой. Ответ дайте в километрах.

Ответ: _____.

4 Сколько минут затратят на дорогу из деревни Лягушкино в село Вятское Никита с папой, если поедут через деревню Марусино?

Ответ: _____.

5 В таблице указана стоимость (в рублях) некоторых продуктов в четырёх магазинах, расположенных в деревне Лягушкино, селе Вятское, деревне Куровка и деревне Марусино.

Наименование продукта	д. Лягушкино	с. Вятское	д. Куровка	д. Марусино
Молоко (1 л)	32	38	31	44
Хлеб (1 батон)	26	28	35	25
Сыр «Российский» (1 кг)	220	260	230	240
Говядина (1 кг)	360	350	330	400
Картофель (1 кг)	16	15	22	17

Никита с папой хотят купить 3 батона хлеба, 2 кг говядины и 3 кг картофеля. В каком магазине такой набор продуктов будет стоить дешевле всего? В ответ запишите стоимость данного набора в этом магазине.

Ответ: _____.

6

Найдите значение выражения

$$\sqrt{9^4}$$

Ответ: _____.

7

Между какими целыми числами заключено число $\frac{110}{13}$?

- 1) 8 и 9
- 2) 9 и 10
- 3) 10 и 11
- 4) 11 и 12

Ответ: _____.

8

Найдите значение выражения

$$\sqrt{16x^4y^6} \text{ при } x=6 \text{ и } y=2.$$

Ответ: _____.

9

Решите уравнение $x^2=5x$ Если уравнение имеет более одного корня, в ответ запишите меньший из корней.

Ответ: _____.

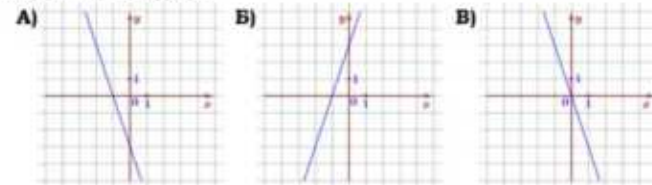
10

На тарелке лежат одинаковые на вид пирожки: 4 с мясом, 8 с капустой и 3 с вишней. Петя наугад берёт один пирожок. Найдите вероятность того, что пирожок окажется с вишней.

Ответ: _____.

11

Установите соответствие между графиками функций и формулами, которые их задают.



- 1) $y = -3x$
- 2) $y = 3x + 3$
- 3) $y = -3x - 3$

Ответ:

А	Б	В

 В таблице под каждой буквой укажите соответствующий номер.

12

Центростремительное ускорение при движении по окружности (в $\text{м}/\text{с}^2$) вычисляется по формуле $a = \omega^2 R$, где ω — угловая скорость (в с^{-1}), R — радиус окружности (в метрах). Пользуясь этой формулой, найдите радиус R , если угловая скорость равна 6 с^{-1} , а центростремительное ускорение равно $18 \text{ м}/\text{с}^2$. Ответ дайте в метрах.

Ответ: _____.

13

Укажите решение неравенства $3x - 4(2x + 1) < -7$.

- 1) $(2, 2; +\infty)$ 2) $(0, 6; +\infty)$ 3) $(-\infty; 2, 2)$ 4) $(-\infty; 0, 6)$

Ответ: _____.

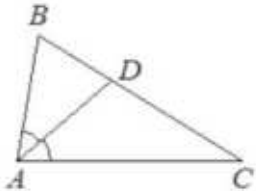
14

В ходе биологического эксперимента в чашку Петри с питательной средой поместили колонию микроорганизмов массой 13 мг. За каждые 30 минут масса колонии увеличивается в 3 раза. Найдите массу колонии микроорганизмов через 90 минут после начала эксперимента. Ответ дайте в миллиграммах.

Ответ: _____.

15

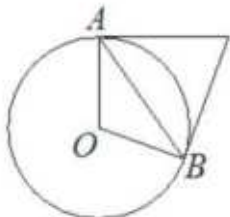
1. В треугольнике ABC известно, что $\angle BAC = 82^\circ$, AD – биссектриса. Найдите угол BAD . Ответ дайте в градусах.



Ответ: _____.

16

1. Касательные в точках A и B к окружности с центром O пересекаются под углом 58° . Найдите угол ABO . Ответ дайте в градусах.



Ответ: _____.

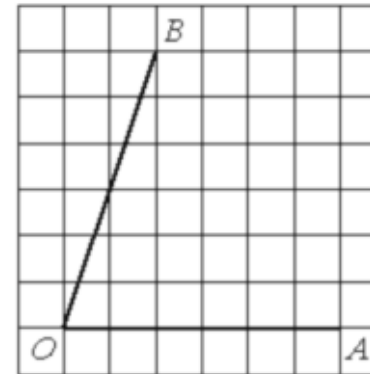
17

1. Один из углов параллелограмма равен 41° . Найдите больший угол этого параллелограмма. Ответ дайте в градусах.



Ответ: _____.

18



Найдите тангенс угла AOB , изображённого на рисунке.

Ответ: _____.

19

Какое из следующих утверждений верно?

- 1) Если два угла одного треугольника равны двум углам другого треугольника, то такие треугольники подобны.
 - 2) Диагонали ромба равны.
 - 3) Тангенс любого острого угла меньше единицы.
- В ответ запишите номер выбранного утверждения.

Ответ: _____.



Не забудьте перенести все ответы в бланк ответов № 1 в соответствии с инструкцией по выполнению работы. Проверьте, чтобы каждый ответ был записан в строке с номером соответствующего задания.

Часть 2

При выполнении заданий 20–25 используйте БЛАНК ОТВЕТОВ № 2. Сначала укажите номер задания, а затем запишите его решение и ответ. Пишите чётко и разборчиво.

20

Решите уравнение $\frac{1}{x^2} + \frac{2}{x} - 3 = 0$

21

Свежие фрукты содержат 87% воды, а высушенные — 22%. Сколько требуется свежих фруктов для приготовления 49 кг высушенных фруктов?

22

Постройте график функции $y = \frac{x^4 - 10x^2 + 9}{(x+1)(x-3)}$ и определите, при каких значениях m прямая $y = m$ имеет с графиком ровно одну общую точку.

23

Высота AH ромба $ABCD$ делит сторону CD на отрезки $DH=21$ и $CH=8$. Найдите высоту ромба.

24

Известно, что около четырёхугольника $ABCD$ можно описать окружность и что продолжения сторон AB и CD четырёхугольника пересекаются в точке M . Докажите, что треугольники MBC и MDA подобны.

25

Высота AH ромба $ABCD$ делит сторону CD на отрезки $DH=16$ и $CH=4$. Найдите высоту ромба.



Проверьте, чтобы каждый ответ был записан рядом с номером соответствующего задания.